


Třída

Jméno.....

Měření třmenovým mikrometrem – procvičování

Urči správnou hodnotu z vyobrazené části stupnice třmenového mikrometru a zapiš do vyznačeného okénka.

1.



2.



3.




4.



5.



6.




Autorem materiálu a všech jeho částí je Karel Laštovka.

Podpora spolupráce škol a firem se zaměřením na odborné vzdělávání v praxi (Pospolu)
www.projektpospolu.cz


7.



8.




9.




Mikrometr s rozsahem 25 – 50 mm.

10.



11.



12.




13.




14.



15.



16.



17.



Hodnoty pro kontrolu:

1. 0,65
2. 9,9
3. 3,16
4. 1,5
5. 12,77
6. 23,6
7. 19,99
8. 15,13
9. 18,08
10. 33,33
11. 44,5
12. 40,44
13. 26,16
14. 36,13
15. 31,06
16. 48,62
17. 28,85